



哪些相鄰的數字加起來等於10？用筆圈起來，橫、直、斜均可。

9	7	1	5
4	2	6	9
7	9	1	3
4	8	2	4


2	1	4	4
8	9	5	6
7	2	1	5
1	3	9	8

1	6	3	4
3	4	5	5
2	7	6	3
1	9	8	7

9	8	5	7
1	4	6	5
2	3	4	3
7	1	8	2




按照提示把「搗蛋家庭」人物圈起來，橫、直、斜均可。




提示: + +



提示: + +



提示: + +



提示: + +